


Übungen im Hunderterfeld



LEHRMITTEL
PERLEN



Hunderterfeld-Übung 1

Schreibe die fehlenden Zahlen in die grauen Felder.



1		3	4	5	6	7	8	9	10
11									
21									30
31									40
41									50
51									60
61									70
71									80
81									90
91									100

Hunderterfeld-Übung 2


Schreibe die fehlenden Zahlen in die grauen Felder.



1	2	3	4	5			8	9	10
11									20
21									30
31									40
41									
51									
61									70
71									80
									90
									100

Hunderterfeld-Übung 3

Schreibe die fehlenden Zahlen in die grauen Felder.



1		3	4	5	6	7	8		10
11									
21									30
31									40
41									50
51									60
61									70
71									80
81									90
91									100

Hunderterfeld-Übung 4

Schreibe die fehlenden Zahlen in die grauen Felder.



1									10
11									20
21									30
31									40
41									50
61									70
71									
81									90
91									100

Hunderterfeld-Übung 5


Schreibe die fehlenden Zahlen in die grauen Felder.



1									
11									
21									
31									
51									
61									
71									
81									
91									

Hunderterfeld-Übung 6

Schreibe die fehlenden Zahlen in die grauen Felder.



Hunderterfeld-Übung 7

Schreibe die fehlenden Zahlen in die grauen Felder.



Hunderterfeld-Übung 8

Schreibe die fehlenden Zahlen in die grauen Felder.




Hunderterfeld-Übung 9

Schreibe die fehlenden Zahlen in die grauen Felder.



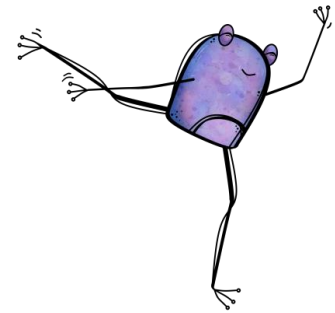
Hunderterfeld-Übung 10

Schreibe die fehlenden Zahlen in die grauen Felder.



Hunderterfeldausschnitt-Übung 1

Schreibe die fehlenden Zahlen in die grauen Felder.



13		15		17	

44		46			

71				75	


				59	

64					
		76			
				88	

				25	
		33			
41					

Hunderterfeldausschnitt-Übung 2

Schreibe die fehlenden Zahlen in die grauen Felder.



23					
43					
63					

	46				
	66				
	86				

41					
		63			
			84		

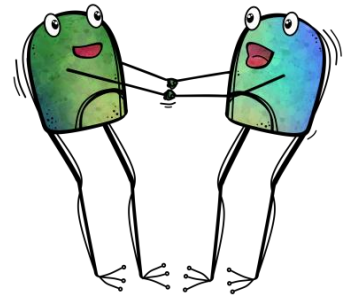
55					
			98		

		55			
			76		

				99	

Hunderterfeldausschnitt-Übung 3

Schreibe die fehlenden Zahlen in die grauen Felder.



		44			
			76		

		67			
				99	

		37			
				60	


			46		

	34				

		85			

Hunderterfeldausschnitt-Übung 4

Schreibe die fehlenden Zahlen in die grauen Felder.



		44			
			55		
	63				

		57			
					90

		37			

				48	

					67

		74			

Hunderterfeldausschnitt-Übung 5

Schreibe die fehlenden Zahlen in die grauen Felder.



23					
43					
63					

	45				
	65				

		37			
55					


64					
		76			

	34				
		55			
			76		

55					
		87			
				99	

Hunderterfeldausschnitt-Übung 6

Schreibe die fehlenden Zahlen in die grauen Felder.



23					

				85	

		37			


			17		

			76		

		87			

Lösung Hunderterfeldausschnitt-Übung 1

Schreibe die fehlenden Zahlen in die grauen Felder.



13		15		17	
23		25		27	
33		35		37	
43		45		47	

44		46		48	
54		56		58	
64		66		68	
74		76		78	

51		53		55	
61		63		65	
71		73		75	
81		83		85	


25		27		29	
35		37		39	
45		47		49	
55		57		59	

54		56		58	
64		66		68	
74		76		78	
84		86		88	

				15	
21				25	
31		33		35	
41		43		45	
51		53		55	
61					

Lösung: Hunderterfeldausschnitt-Übung 2

Schreibe die fehlenden Zahlen in die grauen Felder.



23	24	25	26	27	28
43	44	45	46	47	48
63	64	65	66	67	68

45	46	47	48	49	50
65	66	67	68	69	70
85	86	87	88	89	90

41	42	43	44	45	
	62	63	64	65	66
	82	83	84	85	

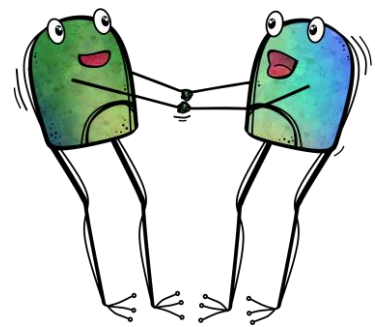
55	56	57	58	59	
	76	77	78	79	80
	96	97	98	99	

33	34	35	36	37	
	54	55	56	57	58
	74	75	76	77	

55	56	57	58	59	
	76	77	78	79	80
	96	97	98	99	

Lösung: Hunderterfeldausschnitt-Übung 3

Schreibe die fehlenden Zahlen in die grauen Felder.



		34			
	43	44	45		
		54			
				66	
			75	76	77
				86	

		47			
	56	57	58		
		67			
				79	
			88	89	90
				99	

		17			
	26	27	28		
		37			
				49	
			58	59	60
				69	


		5			
	14	15	16		
		25			
				37	
			46	47	48
				57	

		25			
	34	35	36		
		45			
				57	
			66	67	68
				77	

				37	
43			46	47	48
53	54			57	
63		65			
	74	75	76		
		85			

Lösung: Hunderterfeldausschnitt-Übung 4

Schreibe die fehlenden Zahlen in die grauen Felder.



	33			36	
		44	45		
		54	55		
	63			66	

		57			60
			68	69	
			78	79	
		87			90

25			28		
	36	37			
	46	47			
55			58		


		26			29
			37	38	
			47	48	
		56			59

		34			37
			45	46	
			55	56	
		64			67

52			55		
	63	64			
	73	74			
82			85		

Lösung: Hunderterfeldausschnitt - Übung 5

Schreibe die fehlenden Zahlen in die grauen Felder.



	14				
23	24	25	26	27	28
	34		36		
43	44	45	46	47	48
	54		56		58
63	64	65	66	67	68

	45		47		
	55	56	57	58	
	65		67		
	75	76	77	78	
	85		87		

	26	27			
		37	38	39	
55	56	57	58		


				48	49
		56	57		
64	65				
		76	77		
			87	88	
				98	99

33	34			37	
	54	55		57	58
73		75	76	77	

45				49	
55					
		67			
		77		79	
		87		89	
				99	

Hunderterfeldausschnitt-Übung 6

Schreibe die fehlenden Zahlen in die grauen Felder.



	14				
23	24	25			28
	34				
			46	47	
		55			
		65			

				35	
			44	45	
51		53	54	55	
		63	64	65	
			74	75	
				85	

			18		
	26			29	
		37			
			48		
55				59	
	66				70

		6			
	15		17		
24					
				38	
		46		48	
				58	

		25			
	34	35			
	44			47	
53		55		57	
			66		
			76		

		57		59	
			68		
		77		79	
		87			
95					100

© Lehrmittel Boutique Marisa Herzog

Quelle: Adelma Nwaozi-Romanello

Bilder

- Pixabay.com: <http://pixabay.com/> Lizenz CC0 Public Domain <https://pixabay.com/>
- Clipart.com <http://www.clipart.com/de/>
- Crunchy Mom <https://www.teacherspayteachers.com/Store/Crunchymom>